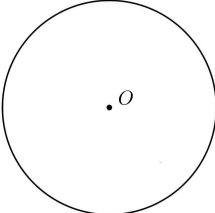
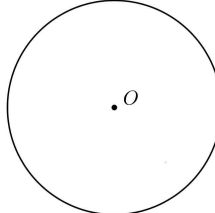
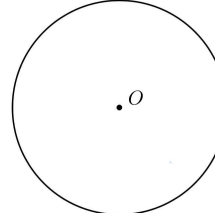


수 력 발 전 소	5. 원의 성질 원주각 활용1	학교
		학년 반 번
		이름

12. 원에 내접하는 사각형 성질

원에 내접하는 사각형 성질 1 	원에 내접하는 사각형 성질 2 	원에 내접하는 사각형 성질 1 
사각형 □ <i>ABCD</i> 가 원에 내접하면 다음 성질을 만족한다. 1. 2. 3.		

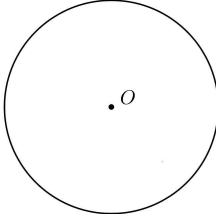
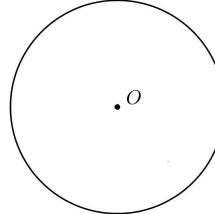
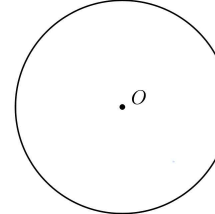
13. 사각형이 원에 내접할 조건

다음 조건을 만족하는 사각형은 원에 내접한다.		
1.	2.	3.

14. 접선과 현이 이루는 각

접선과 현이 이루는 각 : 예각 	접선과 현이 이루는 각 : 둔각 
--	---

15. 방벽의 정리

		
---	---	---